



KERTAS MODEL SIJIL PELAJARAN MALAYSIA 2025

SEJARAH

1249/1

Kertas 1

1 jam

JANGAN BUKA KERTAS PEPERIKSAAN INI SEHINGGA DIBERITAHU

1. *Kertas peperiksaan ini mengandungi 40 soalan.*
2. *Jawab semua soalan.*
3. *Bagi setiap soalan, pilih satu jawapan sahaja. **Hitamkan** jawapan anda pada kertas jawapan objektif yang disediakan.*
4. **Kertas jawapan objektif** hendaklah diserahkan kepada pengawas peperiksaan pada akhir peperiksaan.

Kertas peperiksaan ini mengandungi 10 halaman bercetak.

- 1 Apakah yang diwarisi oleh Kesultanan Melayu Melaka daripada kerajaan Srivijaya?
- A Ciri-ciri negara bangsa
 B Upacara pertabalan raja
 C Penggunaan gelaran sultan
 D Sistem pemerintahan demokrasi
- 2 Maklumat berikut berkaitan Undang-Undang Laut Melaka.

Fasal 13.1
Nakhoda perlu diberikan keutamaan untuk berniaga selama empat hari.

Mengapakah keistimewaan tersebut diperoleh nakhoda kapal?

- A Dianggap wakil kerajaan
 B Dikhuatiri berlaku penipuan
 C Diibaratkan raja dalam pelayaran
 D Dihormati pedagang di pelabuhan
- 3 Revolusi berikut berlaku di Barat.

- | |
|--|
| <ul style="list-style-type: none"> • Revolusi Keagungan di England • Revolusi Perancis |
|--|

Apakah persamaan yang terdapat antara revolusi tersebut?

- A Pemuluan proses pilihan raya
 B Pemberontakan golongan hamba
 C Pengurangan kuasa panglima tentera
 D Penentangan terhadap pemerintahan beraja
- 4 Jadual berikut berkaitan tindakan pemerintah Thailand.

Pemerintah	Tindakan
Raja Mongkut	Memodenkan negara dan mengamalkan dasar terbuka
Raja Chulalongkorn	

Mengapakah tindakan tersebut diambil oleh baginda berdua?

- A Menyaingi kuasa besar
 B Mengekalkan kedaulatan negara
 C Memantapkan kuasa pemerintah
 D Memodenkan sistem pendidikan
- 5 Maklumat berikut berkaitan nombor rujukan dalam “Cerita Tekukur”.

- | |
|--|
| <ul style="list-style-type: none"> • Tekukur nombor 1874 • Tekukur nombor 1909 |
|--|

Apakah yang dilambangkan dengan nombor tersebut?

- A Lokasi kawasan jajahan kuasa Barat
 B Tarikh negeri Melayu dikuasai British
 C Bilangan anggota pasukan keselamatan
 D Jumlah mangsa korban dalam peperangan

- 6 Novel berikut merupakan karya Ahmad Murad Nasaruddin.

Nyawa di-hujung Pedang

Apakah mesej yang terkandung di dalam novel tersebut?

- A Ketidakadilan sistem perundangan
 - B Kemunduran rakyat tempatan
 - C Kekejaman tentera Jepun
 - D Kelemahan pihak Britain
- 7 Rajah berikut berkaitan usaha British mengubah status Tanah Melayu.

Negeri Naungan → Negeri Jajahan

Bagaimanakah usaha tersebut berjaya dilakukan?

- A Melaksanakan dasar dekolonisasi
 - B Memperkenalkan Malayan Union
 - C Menggubal perlembagaan merdeka
 - D Membentuk Persekutuan Tanah Melayu
- 8 Pekeliling berikut dikeluarkan oleh British pada Disember 1946 di Sarawak.

Pekeliling no. 9/1946

Mengapakah pekeling tersebut dikeluarkan?

- A Memberi amaran kepada parti politik
 - B Mengawal pelantikan kakitangan kerajaan
 - C Mengingatkan tentang kebebasan bersuara
 - D Melarang penyertaan gerakan antipenyERAHAN
- 9 Mengapakah Parti Kebangsaan Melayu Malaya (PKMM) tidak berpuas hati dengan British?
- A Dianggap golongan berhaluan kiri
 - B Tidak diberi peluang dalam pentadbiran
 - C Diketepikan daripada Jawatankuasa Kerja
 - D Tanah Melayu disatukan dengan Singapura

- 10 Majlis Mesyuarat Persekutuan ditubuhkan bagi membantu Pesuruhjaya Tinggi British di Tanah Melayu.

Manakah antara berikut merupakan bidang kuasa majlis tersebut?

- I Hal ehwal luar
 - II Ketenteraman awam
 - III Pelantikan pemerintah
 - IV Syarat kewarganegaraan
- A I dan II
 - B I dan IV
 - C II dan III
 - D III dan IV


- 11 Mengapakah Partai Komunis Indonesia (PKI) berusaha menyebarkan pengaruh mereka di Tanah Melayu?
- A Kegagalan menguasai Pulau Jawa
 - B Penubuhan Parti Komunis Nanyang
 - C Keinginan menguasai bahan mentah
 - D Peluasan pengaruh Parti Komunis China
- 12 Mengapakah Parti Komunis Malaya (PKM) menyasarkan pasukan keselamatan dan menyerang balai polis?
- A Merampas senjata api
 - B Menimbulkan ketakutan
 - C Melambatkan kemerdekaan
 - D Menonjolkan ketidakpercayaan
- 13 Apakah idea kemerdekaan yang diperjuangkan oleh Kesatuan Melayu Muda?
- A Melayu Raya
 - B Kerjasama kaum
 - C Pemerintah sosialis
 - D Raja Berperlembagaan
- 14 Jawatankuasa Hubungan Antara Kaum (CLC) ditubuhkan pada Januari 1949. Apakah objektif yang hendak dicapai melalui penubuhan jawatankuasa tersebut?
- I Mengukuhkan ekonomi negara
 - II Mewujudkan keadaan harmoni
 - III Mengkaji hubungan kaum
 - IV Menyelesaikan isu pergaduhan
- A I dan II
 - B I dan IV
 - C II dan III
 - D III dan IV
- 15 Ordinan berikut telah diperkenalkan pada tahun 1950.

Ordinan Pilihan Raya Pihak Berkuasa Tempatan

Apakah kuasa yang diberikan kepada majlis tempatan mengikut ordinan tersebut?

- A Menubuhkan parti politik
- B Mengadakan pilihan raya
- C Menetapkan manifesto
- D Memilih calon

- 16 Gambar di bawah menunjukkan barisan kabinet pertama Persekutuan Tanah Melayu selepas Pilihan Raya Umum 1955.



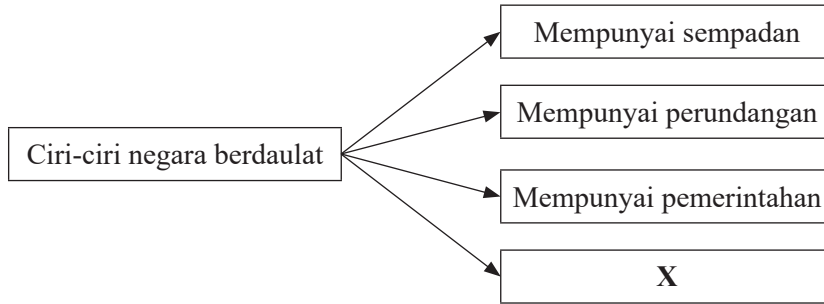
Sumber: Arkib Negara Malaysia

- Apakah peranan kabinet tersebut?
- A Menamatkan pentadbiran British
 - B Membincangkan hubungan diplomatik
 - C Mengubah sistem berasaskan Westminster
 - D Membincangkan isu keselamatan dalam negeri
- 17 Suruhanjaya Perlembagaan Persekutuan Tanah Melayu ditubuhkan pada 8 Mac 1956. Mengapakah suruhanjaya ini dibentuk?
- A Menyusun perlembagaan
 - B Menubuhkan negara baharu
 - C Membuat rundingan di London
 - D Melanjutkan tarikh kemerdekaan
- 18 Apakah peranan bahasa Melayu menurut Perjanjian Persekutuan Tanah Melayu 1957?
- I Bahasa ilmu
 - II Bahasa pengantar
 - III Bahasa komunikasi
 - IV Bahasa tunggal naturalisasi
- A I dan II
 - B I dan IV
 - C II dan III
 - D III dan IV
- 19 Pada pendapat anda, apakah kepentingan menghayati erti kemerdekaan negara?
- A Mengenali sejarah negara
 - B Meningkatkan kemajuan
 - C Mengukuhkan jati diri
 - D Menjadi pemimpin
- 20 Apakah tujuan Rancangan Buku Merah yang dilancarkan pada 25 Januari 1961?
- A Membuka tanah secara besar-besaran
 - B Memantau projek pembangunan
 - C Menyediakan peluang pekerjaan
 - D Menstabilkan kewangan negara

[Lihat halaman sebelah

SULIT

21 Maklumat berikut berkaitan dengan ciri-ciri negara yang berdaulat.



Apakah ciri X?

- A Mempunyai rakyat
- B Mempunyai agama
- C Mempunyai lambang
- D Mempunyai ketenteraan

22 Maklumat berikut berkaitan peranan rakyat dalam mempertahankan kedaulatan negara.

- Menganggotai pasukan keselamatan
- Memberikan maklumat tentang pencerobohan sempadan negara

Apakah aspek yang ditekankan dalam dasar tersebut?

- A Meningkatkan kewibawaan pemimpin
- B Membawa kesejahteraan hidup
- C Mengukuhkan pertahanan
- D Melicinkan pentadbiran

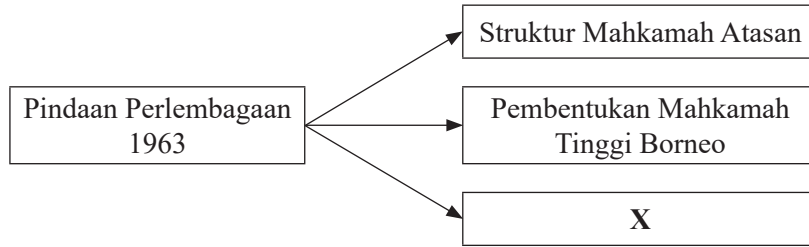
23 Gambar berikut berkaitan badan pentadbiran negara.



Apakah peranan institusi tersebut?

- A Mengekalkan kedaulatan negara
- B Melantik Yang di-Pertuan Agong
- C Membentuk undang-undang negara
- D Memilih Timbalan dan Perdana Menteri

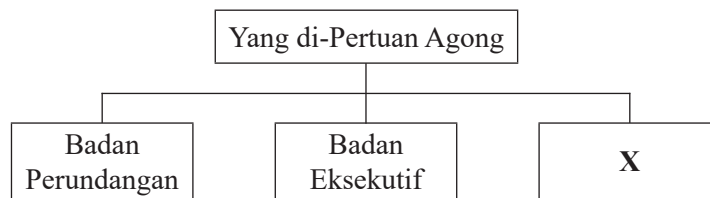
24 Rajah berikut berkaitan pindaan Perlembagaan 1963.



Apakah X?

- A Penggunaan bahasa Melayu
- B Pemansuhan kuasa imigresen
- C Pelaksanaan sistem Demokrasi Berparlimen
- D Pengenalan jawatan Yang di-Pertua Negeri

25 Rajah menunjukkan pengasingan kuasa dalam pemerintahan negara.



Apakah peranan X?

- A Membuat pindaan perlembagaan
- B Mentafsirkan undang-undang
- C Melaksanakan dasar-dasar
- D Menggubal perlembagaan

26 Perlembagaan Persekutuan memperuntukkan kuasa budi bicara pada Yang di-Pertuan Agong. Apakah tindakan yang membuktikan kuasa tersebut?

- A Melakukan pindaan perlembagaan
- B Menyelesaikan perisytiharan sempadan
- C Pengisytiharan undang-undang darurat
- D Pelantikan ketua Kerajaan Persekutuan

27 Senarai berikut adalah badan berkanun yang ditubuhkan bagi menjayakan sosioekonomi negara.

- Lembaga Penyatuan dan Pemulihan Tanah Persekutuan (FELCRA)
- Lembaga Kemajuan Tanah Persekutuan (FELDA)

Apakah faktor kejayaan pengurusan badan berkanun tersebut?

- A Kepelbagaian kemudahan asas di luar bandar
- B Kerjasama Kerajaan Persekutuan dan Kerajaan Negeri
- C Kemajuan teknologi moden dalam pertanian
- D Keberkesanan Dasar Pertanian Negara

- 28 Apakah majlis yang ditubuhkan untuk menyelaraskan pentadbiran Kerajaan Persekutuan dan Kerajaan Negeri?
- I Majlis Persekutuan Negeri
 - II Majlis Khazanah Nasional
 - III Majlis Kewangan Negara
 - IV Majlis Tanah Negara
- A I dan II
 - B I dan IV
 - C II dan III
 - D III dan IV
- 29 Tokoh berikut adalah Pegawai Tinggi British.



Sir Gerald Templer



Sir Geoffrey Tory

- Apakah persamaan kedua-dua tokoh tersebut?
- A Mencadangkan penggabungan wilayah
 - B Merancang pengasingan kuasa
 - C Menganggotai Suruhanjaya Cobbold
 - D Membubarkan Dewan Parlimen British
- 30 Tarikh asal pembentukan Malaysia 31 Ogos 1963 ditangguhkan kepada 16 September 1963. Mengapa situasi ini berlaku?
- A Pembubaran Parlimen Tanah Melayu
 - B Kelewatan laporan Setiausaha PBB
 - C Pemisahan Singapura dari Malaysia
 - D Tindakan ketenteraan Indonesia
- 31 Mesyuarat berikut telah diadakan atas arahan Tunku Abdul Rahman Putra al-Haj.

1 Julai 1965
Mesyuarat antara Tun Abdul Razak Hussein bersama beberapa menteri seperti Dr. Ismail Abdul Rahman, Tan Siew Sin dan V.T. Sambanthan.

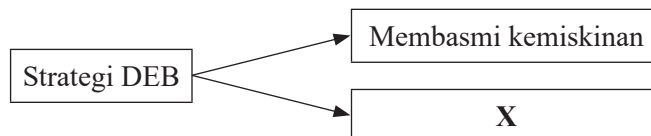
- Apakah perkara yang dibincangkan dalam mesyuarat tersebut?
- A Pemisahan Singapura
 - B Pembubaran Parlimen
 - C Pembentukan Malaysia
 - D Pengeboman Tugu Negara

- 32 Mengapakah kerajaan melancarkan Operasi Hammer di Sarawak?
- Menghentikan rusuhan kaum
 - Melemahkan parti berhaluan kiri
 - Menghapuskan ancaman komunis
 - Menghalang pencerobohan pendatang
- 33 Institut Bahasa, Kesusasteraan dan Kebudayaan Melayu (IBKKM) ditubuhkan pada 1 Disember 1972 di Universiti Kebangsaan Malaysia (UKM).
Apakah peranan institut tersebut?
- Pusat penerbitan
 - Pusat penyelidikan
 - Pusat pengumpulan
 - Pusat penterjemahan
- 34 Senarai berikut berkaitan sukan yang dianjurkan di negara kita.

- Majlis Sukan Sekolah-sekolah Malaysia (MSSS)
- Majlis Sukan Universiti Malaysia (MASUM)
- Sukan Malaysia (SUKMA)

Apakah tujuan sukan tersebut diadakan?

- Mengimbangi ekonomi antara kaum
 - Memajukan industri pelancongan
 - Memantapkan ekonomi negara
 - Memperkukuh perpaduan
- 35 Rajah berikut berkaitan strategi Dasar Ekonomi Baru (DEB).



Apakah X?

- Menggiatkan sektor swasta
 - Menggalakkan perladangan
 - Menyusun semula masyarakat
 - Memajukan perindustrian berat
- 36 Bagaimanakah kerajaan berjaya menurunkan kadar kemiskinan di Malaysia?
- Membuka peluang pekerjaan
 - Menyekat kemasukan imigran
 - Menyediakan kemudahan pinjaman
 - Mempelbagaikan kegiatan ekonomi
- I dan II
 - I dan IV
 - II dan III
 - III dan IV

- 37 Antara berikut, yang manakah faktor penggubalan dasar luar Malaysia?
A Kesaksamaan budaya
B Kedudukan strategik
C Keperluan nasional
D Melantik Yang di-Pertuan Agong
- 38 Jadual berikut berkaitan dengan pelibatan Malaysia dalam Pergerakan Negara-negara Tanpa Pihak (NAM).

Tahun	Perjanjian
1970	Perisytiharan Lusaka

Apakah kepentingan perjanjian tersebut?

- A Pencerobohan Palestin ditamatkan
B Peningkatan kerjasama ekonomi
C Pelarian Bosnia diselamatkan
D Pengharaman senjata nuklear
- 39 Mengapakah Malaysia menjadi transit pemerdagangan orang ke negara lain?
A Kedudukan yang strategik
B Kemudahan pelabuhan banyak
C Kawalan sempadan yang longgar
D Kelemahan penguatkuasaan undang-undang
- 40 Bagaimanakah Malaysia berjaya menangani kemelesetan ekonomi pada tahun 1997–1998?
A Menambat kadar mata wang
B Membuat pinjaman Bank Dunia
C Meningkatkan barangan eksport
D Menggunakan pelan perancangan IMF

KERTAS PEPERIKSAAN TAMAT



NO. PENGENALAN DIRI

--	--	--	--	--	--	--	--

ANGKA GILIRAN

--	--	--	--	--	--	--	--

KERTAS MODEL SIJIL PELAJARAN MALAYSIA 2025

SEJARAH

Kertas 2

2 jam 30 minit

1249/2

JANGAN BUKA KERTAS PEPERIKSAAN INI SEHINGGA DIBERITAHU

1. *Tulis nombor pengenalan diri dan angka giliran anda pada petak yang disediakan.*
2. *Kertas peperiksaan ini mengandungi dua bahagian: Bahagian A dan Bahagian B.*
3. *Jawapan hendaklah ditulis pada ruang jawapan yang disediakan di dalam kertas peperiksaan ini.*
4. *Kertas peperiksaan ini hendaklah diserahkan kepada pengawas peperiksaan pada akhir peperiksaan.*

B. CALON BERKEPERLUAN PENDIDIKAN KHAS

- A MASALAH PEMBELAJARAN
- B KURANG UPAYA PENGLIHATAN (BUTA)
- C KURANG UPAYA PELBAGAI
- D KURANG UPAYA PERTUTURAN
- F KURANG UPAYA FIZIKAL
- P KURANG UPAYA PENDENGARAN
- R KURANG UPAYA PENGLIHATAN (RABUN)

UNTUK DIISI OLEH KETUA PENGAWAS PEPERIKSAAN

C. BAGI CALON KES KHAS HITAMKAN RUANG BERKENAAN

- MENUMPANG TERCICIR
- BANTAHAN HADIR TIDAK MENJAWAB

NO. PUSAT MENUMPANG

D. CALON YANG MEMERLUKAN KEMUDAHAN ATAU PERALATAN TAMBAHAN

- JURUTULIS PEMBACA SOALAN DAN JURUTULIS
- GURU PENDAMPING KOMPUTER

E. BAGI CALON TIDAK HADIR HITAMKAN DAN ISIKAN RUANG INI

- TIDAK HADIR

NAMA KETUA PENGAWAS PEPERIKSAAN

TANDATANGAN

Kertas peperiksaan ini mengandungi 14 halaman bercetak.

Bahagian A
[40 markah]
Jawab semua soalan.

1 Nasionalisme adalah satu doktrin yang muncul di Eropah pada awal abad ke-19.

Sumber: Elie Kedourie, *Nationalism*, Praeger Universiti Series, 1962

(a) Jelaskan maksud nasionalisme.

.....
.....
.....

[2 markah]

(b) Bagaimanakah faktor berikut mendorong kemunculan nasionalisme di negara kita pada awal abad ke-20?

(i) Media cetak

.....
.....
.....

[2 markah]

(ii) Sistem pendidikan

.....
.....
.....

[2 markah]

(c) Jelaskan kesan sekiranya rakyat Malaysia tidak memiliki semangat nasionalisme yang tinggi.

.....
.....
.....
.....
.....

[4 markah]

- 2 Berikut menunjukkan gambar kebakaran di Hospital Awam Jesselton oleh tentera Jepun sebelum meninggalkan Sabah.



- (a) Mengapakah Syarikat Borneo Utara British (SBUB) menyerahkan Sabah kepada British selepas Perang Dunia Kedua?

.....
 [2 markah]

- (b) Sejauh manakah Sabah penting kepada British?

.....

 [4 markah]

- (c) “Kebanyakan negara menghadapi masalah kewangan kerana berdepan dengan cabaran ekonomi serta krisis kesihatan terbesar yang pernah melanda dunia. Itu realitinya hari ini dan perkara ini bukan boleh disorok. Ini cabaran ekonomi terbesar dengan apa yang melanda di Malaysia dan negara lain,” Mustapa berkata namun dengan apa jua situasi, kerajaan tetap bekerja keras untuk memulihkan ekonomi negara dengan merangka pelbagai strategi seperti mewujudkan peluang pekerjaan dan memperkasakan perusahaan mikro.

Sumber: *Kebanyakan Negara Hadapi Masalah Kewangan*

Sebagai seorang pemimpin, apakah tindakan yang akan anda lakukan untuk mengatasi masalah kewangan tersebut?

.....

 [4 markah]

3 Perlembagaan Persekutuan melambangkan kedaulatan negara kita yang merdeka dan bebas memerintah mengikut acuannya sendiri.

(a) Nyatakan maksud perlembagaan.

.....
.....
.....

[2 markah]

(b) Jelaskan ciri tradisional yang terkandung dalam Perlembagaan Persekutuan di negara kita.

.....
.....
.....
.....
.....

[4 markah]

(c) Sejak tahun 1957, Perlembagaan Malaysia telah dipinda beberapa kali. Mengapakah pindaan perlembagaan perlu dilakukan?

.....
.....
.....
.....
.....

[4 markah]

4 Berikut merupakan antara Industri Kecil dan Sederhana (IKS) yang berjaya dalam negara kita.



(a) Senaraikan dua ciri Industri Kecil dan Sederhana (IKS) di negara kita.

.....

.....

.....

[2 markah]

(b) Industri Kecil dan Sederhana (IKS) semakin berkembang pesat di negara kita. Sejauh manakah industri ini memberikan manfaat kepada perkembangan ekonomi negara kita?

.....

.....

.....

.....

.....

[4 markah]

(c) Jelaskan cadangan anda untuk memastikan pengusaha Industri Kecil dan Sederhana (IKS) mampu mengembangkan lagi industri yang diusahakannya.

.....

.....

.....

.....

.....

[4 markah]

Bahagian B

[60 markah]

Jawab tiga soalan sahaja.

- 5 Serangan tentera Jepun bermula di Tanah Melayu pada 8 Disember 1941, manakala serangan terhadap Sarawak dan Sabah bermula pada 16 Disember 1941.
- (a) Mengapakah Jepun menjadikan negara kita sebagai sasaran untuk peluasan kuasa? [4 markah]
- (b) Bagaimanakah pelaksanaan dasar pentadbiran Jepun di negara kita? [8 markah]
- (c) Peluasan kuasa ke atas negara-negara kecil masih berlaku pada masa kini. Bincangkan. [8 markah]
- 6 Gambar berikut menunjukkan suasana semasa Pilihan Raya Umum Pertama pada tahun 1955 bagi merintis jalan ke arah kemerdekaan.



Sumber: Arkib Negara Malaysia

- (a) Jelaskan proses pilihan raya tersebut. [4 markah]
- (b) Pilihan raya di negara kita dilaksanakan secara adil. Buktikan. [8 markah]
- (c) Terdapat segelintir rakyat Malaysia, terutamanya generasi muda masih tidak mendaftar sebagai pengundi. Berikan cadangan anda untuk mengatasi masalah tersebut. [8 markah]

7 Pembentukan sistem Persekutuan di negara kita bermula sejak tahun 1896 sehingga tahun 1963. Sistem Persekutuan ini telah memperkukuh pentadbiran kerajaan Malaysia pada hari ini.

(a) Jelaskan konsep sistem Persekutuan di negara kita. [4 markah]

(b) Bagaimanakah pembahagian kuasa dalam pentadbiran kerajaan Malaysia dilaksanakan? [8 markah]

(c) Sebagai rakyat yang patriotik, jelaskan peranan anda untuk mengekalkan Malaysia sebagai sebuah negara Persekutuan. [8 markah]

8 Negara kita menghadapi pelbagai cabaran selepas pembentukan Malaysia.



(a) Jelaskan cabaran berikut:
(i) Pemisahan Singapura [4 markah]
(ii) Tragedi hubungan antara kaum [4 markah]

(b) Bagaimanakah kerajaan Malaysia mengatasi cabaran tersebut? [6 markah]

(c) Ketegangan hubungan antara kaum hanya dapat diatasi melalui sikap toleransi semua pihak di negara ini.
Berikan hujah bagi menyokong pernyataan tersebut. [6 markah]

- 9 “Sebagai sebuah negara yang membangun dan juga menuju era negara maju, Malaysia telah berusaha mengukuhkan kedudukannya melalui mekanisme dasar luarnya.”

Sumber: Rusdi Omar dan Mas Juliana Mukhtaruddin “Dasar Luar Malaysia Era Dato’ Seri Mohd Najib Tun Razak: Keutamaan dalam Aspek Hubungan Dua Hala”,
UUM Repository

- (a) Jelaskan matlamat penggubalan dasar luar negara kita. [4 markah]
- (b) Terangkan faktor yang mempengaruhi penggubalan dasar luar negara. [8 markah]
- (c) Pelaksanaan dasar berkecuali dan berbaik-baik dengan semua negara telah mewujudkan keamanan dan kemakmuran dalam negara kita.
Berikan hujah anda bagi menyokong pernyataan tersebut. [8 markah]

KERTAS PEPERIKSAAN TAMAT